

מדבקה

שבט תשס"ה - פברואר 2005

תפנית א א א

מבדק אמצע שנה "ל תשס"ה במתמטיקה

שכבה ב'

- לרשותכם שעתיים.
- מתר שמוש באמצעי המחשה.

בהצלחה

פתרו :

$$30 + 20 = \underline{\quad\quad} \quad (1)$$

$$90 - 40 = \underline{\quad\quad} \quad (2)$$

כתבו מספר מתאים :

$$55 > \underline{\quad\quad} \quad (3)$$

$$68 < \underline{\quad\quad} < 78 \quad (4)$$

(5) כתבו שלושה מספרים זוגיים _____ , _____ , _____

פתרו :

$$48 + 34 = \underline{\quad} \quad (7)$$

$$23 + 17 = \underline{\quad} \quad (6)$$

$$51 - 24 = \underline{\quad} \quad (9)$$

$$89 - 37 = \underline{\quad} \quad (8)$$

(10) למסיבה קנו 25 בלונים כחלים ו-10 בלונים אדמים .

כמה בלונים קנו למסיבה ?

תרגיל :

תשובה :

כתבו את המספר הקודם והמספר העוקב :

_____ , 30 , _____ (11)

כתבו במלים : (12)

58

13) לְדַנֵּי הֵיוּ 30 גוּלוֹת .

כַּמָּה גוּלוֹת קָנָה דָּנִי , אִם יֵשׁ לוֹ עֲכָשְׁיוֹ 45 גוּלוֹת ?

תְּרַגֵּיל : _____

תְּשׁוּבָה : _____

הַשְּׁלִימוּ :

$$\underline{\quad} + 3 = 17 \quad (14)$$

$$16 - \underline{\quad} = 11 \quad (15)$$

כְּתוּבוּ סִימָן מֵתַאִים > , < או =

$$7 \text{ עֶשְׂרוֹת} \underline{\quad} 8 \text{ יְחִידוֹת} \quad (16)$$

$$40 \underline{\quad} 4 \text{ עֶשְׂרוֹת} \quad (17)$$

18) כְּתוּבוּ מִסְפָּר מֵתַאִים :

שְׁמוֹנִים וְשָׁלוֹשׁ _____

19) הַשְּׁלִימוּ מִסְפָּרִים מֵתַאִימִים וּפְתְרוּ .

נוֹרִית הִכִּינָה צָמִיד .

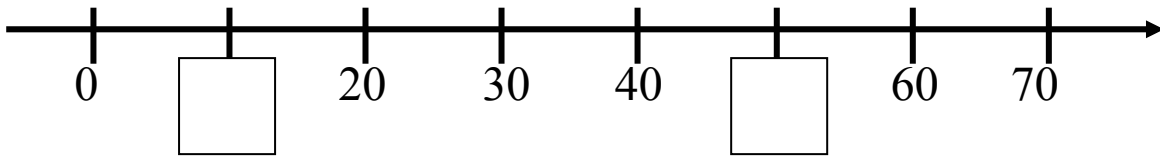
בְּצָמִיד יֵשׁ _____ חֲרוּזִים לְבָנִים וְ- _____ חֲרוּזִים נְרוּזִים .

כַּמָּה חֲרוּזִים בְּצָמִיד נֶשֶׁל נוֹרִית ?

תְּרַגֵּיל : _____

תְּשׁוּבָה : _____

20) כתבו מספרים מתאימים במשבצות .



21) על השולחן יש 8 פוסות, 10 צלחות ו-2 ספרים .
כמה פלים יש על השולחן ?

תרגיל : _____

תשובה : _____

השלימו :

56 , 57 , 58 , _____ , _____ , _____ (22)

60 , 50 , 40 , _____ , _____ , _____ (23)


24) סדרו את המספרים הבאים מהקטן לגדול :

31 , 3 , 13 , 33

המספר הגדול _____ , _____ , _____ , _____ המספר הקטן

25) כמה צרינך להוריד מ-40 פני לקבל 25 ? _____


בַּחֲנוּת הַצֵּעָצוּעִים מוֹכְרִים אֶת הַצֵּעָצוּעִים הָאֵלֶּה :



בִּבָּה 5 ש"ח



דָּבִי 6 ש"ח



רֶכֶּבֶת 8 ש"ח



כְּדּוּר 15 ש"ח

(26) לְרַחֵל יֵשׁ 20 ש"ח .

רַחֵל רוֹצֵה לְקַנּוֹת שְׁנֵי צֵעָצוּעִים וּלְקַבֵּל עוֹדָף .
הַצִּיעוּ לְרַחֵל אֵיזָה צֵעָצוּעִים הֵיא יְכוּלָה לְקַנּוֹת .

(27) לְמִשָּׁה יֵשׁ 10 ש"ח .

הָאֵם מִשָּׁה יְכוּל לְקַנּוֹת שְׁנֵי צֵעָצוּעִים שׁוֹנִים ?
הַסְּבִירוּ תְּשׁוּבַתְכֶם

הַשְׁלִימוּ :

$$20 - \underline{\quad} > 10 \quad (28)$$

$$\underline{\quad} + \underline{\quad} > 20 \quad (29)$$


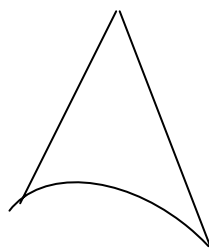
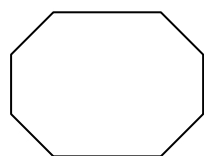
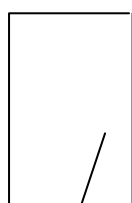
(30) כְּתֹבוּ מְסָפֵר גָּדוֹל מ־ 35 וְקָטָן מ־ 50 _____

סְרְטוּ :

(32) קו עֵקוּם פְּתוּחַ

(31) קו לְשֹׁבֵר סָגוּר

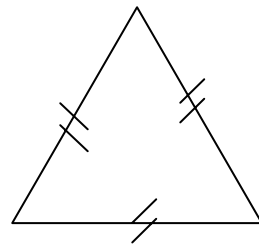
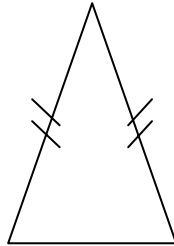
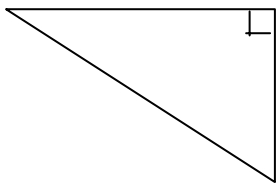
(33) הַקִּיפוּ אֶת הַמְצוּלָע .



(34) סרטיטו קטע קצר יותר מהקטע הנתון .



פתבו מתחת לכל משלש נשם מתאים , מתוך מחסן המלים .



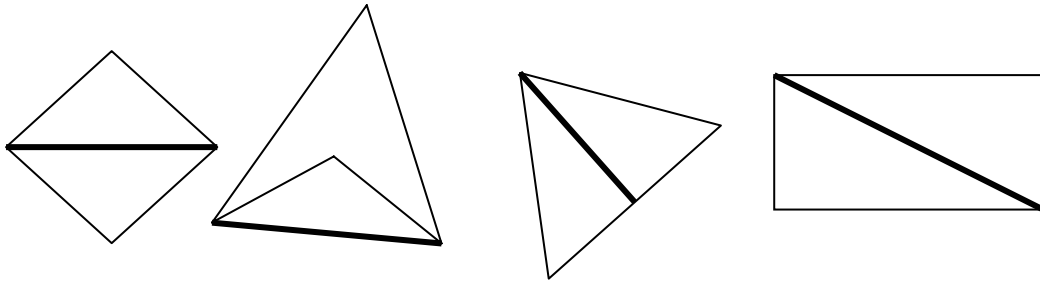
_____ (35) _____ (36) _____ (37)

מחסן מילים : משלש ישר זנזית , משלש שווה צלעות , משלש שווה שוקים .

(38) הנשלימו את הטבלה :

מספר צלעות	מספר קדקודים	הצורה

39) הקיפו את הצורה בה הקטע המודגש אינו אלכסון (לא אלכסון)



40) סרטו את כל האלכסונים מהקדקוד המודגש .

