

מדבקה

סיון תשס"ה - יוני 2005

תפנית

מבדק סוף שנה "ל תשס"ה במתמטיקה

כיתה א'

לרשותכם שעותיים .
מותר לְשִׁמוֹשׁ באמצעי המחשבה .

בהצלחה

כתבו סימן מתאים $<$, $>$, או $=$

30 _____ 13 (1)

25 _____ 52 (2)

כתבו בספרות :

_____ חמש עשרה (3)

_____ שבעים ושתיים (4)

כתבו במלים :

_____ 11 (5)

_____ 80 (6)

פתרו את התרגילים הבאים :

$$5 + 3 = \underline{\hspace{2cm}} \quad (7)$$

$$8 + 4 = \underline{\hspace{2cm}} \quad (8)$$

$$12 + 5 = \underline{\hspace{2cm}} \quad (9)$$

$$10 - 6 = \underline{\hspace{2cm}} \quad (10)$$

$$13 - 8 = \underline{\hspace{2cm}} \quad (11)$$

$$12 - 0 = \underline{\hspace{2cm}} \quad (12)$$

(13) באגרטל יש 5 פרחים צהובים ו-4 פרחים אדומים .
כמה פרחים באגרטל ?

תרגיל : _____

תשובה : _____

(14) כתבו את המספר הקודם והמספר העוקב :

_____, 17, _____

פתרו :

$$20 + 70 = \underline{\hspace{2cm}} \quad (15)$$

$$80 - 50 = \underline{\hspace{2cm}} \quad (16)$$

17) כמה בנות משחקות בגן המשחקים, אם בגן משחקים 15 ילדים ו-10 מהם בנים?

תרגיל: _____

תשובה: _____

כתבו סימן מתאים $>$, $<$, או $=$

$$18 - 8 \quad \underline{\quad} \quad 18 - 6 \quad (18)$$

$$12 + 5 \quad \underline{\quad} \quad 5 + 12 \quad (19)$$

20) הקיפו את המספר יוצא הדופן

6 , 18 , 9 , 12 , 0

במקו _____

השלימו:

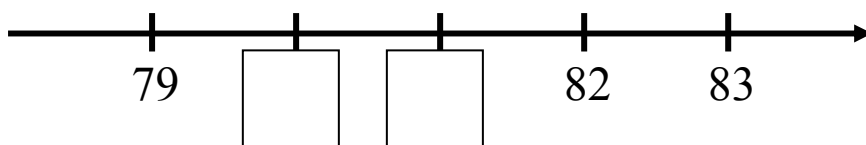
$$4 + \underline{\quad} = 9 \quad (21)$$

$$\underline{\quad} - 3 = 10 \quad (22)$$


$$5 - \underline{\quad} = 5 \quad (23)$$

$$\underline{\quad} + \underline{\quad} = 20 \quad (24)$$

(25) הנשלימו את המספרים החסרים במשבצות הריקות :



(26) לקן יש 3 גולות .
ליאיר יש 4 גולות יותר מאשר לקן .
ציירו את הגולות של יאיר .

	הגולות של קן
	הגולות של יאיר

ליאיר יש _____ גולות

הנשלימו את המספר החסר :

$2 + \underline{\quad} > 9$ (27)

$19 - \underline{\quad} < 13$ (28)

(29) כתבו תרגיל כפל מתאים :

$3 + 3 + 3 + 3 = \underline{\quad} \times \underline{\quad}$

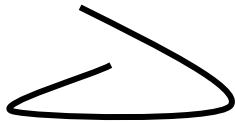
פתרו : (30)

$$3 \times 2 = \underline{\hspace{2cm}}$$

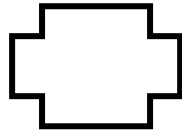
$$1 \times 5 = \underline{\hspace{2cm}}$$

מתחזו קו בין הצורה ובין השם המתאים לה

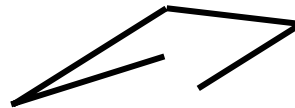
(34



(33



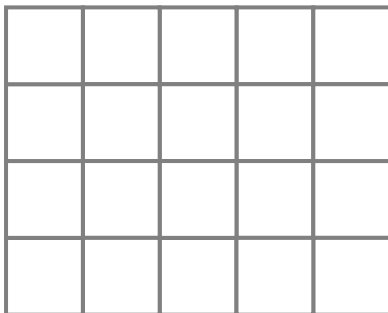
(32



(31



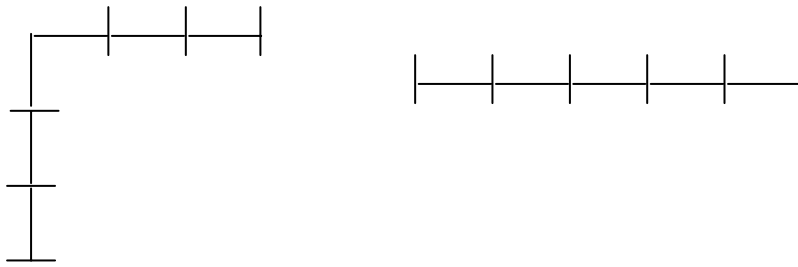
קו שבור פתוח , קו עקום סגור , קו עקום פתוח , קו שבור סגור



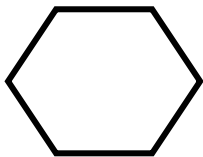
(35 סרטטו מצולע נשיש לו 4 צלעות .

שם המצולע _____


36) לפניכם שני קווים .
הקיפו את הקו הקצר יותר .



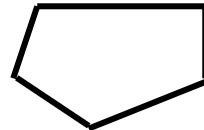
פתבו את שם המצולע על פי מספר הצלעות .



_____ (39)



_____ (38)



_____ (37)

40) סרטטו קו נשקוף

