



ציונים (לשימוש משרדי בלבד)		
משוקלל	הנדסה	חשבון
<u>40</u>	<u>10</u>	<u>30</u>

**מבדק סוף שנה"ל תשס"ו בַּמְתַּמְטִיקָה  
שְׁכָּבָה א'**

- מִתָּר לֵה שֵׁתֵמֵשׁ בֵּאֲמֻצְעֵי הַמְּחֻשָּׁה
- לְרִשׁוֹתְכֶם שְׁעֵתַיִים
- בְּהַצְלָחָה

**פְּתוּרוֹ אֶת הַתְּרַגִּילִים :**

- 5 + 4 = \_\_\_\_\_ (1)
- 3 + 7 = \_\_\_\_\_ (2)
- 9 + 8 = \_\_\_\_\_ (3)
- 11 + 9 = \_\_\_\_\_ (4)
- 15 - 5 = \_\_\_\_\_ (5)
- 14 - 8 = \_\_\_\_\_ (6)
- 19 - 6 = \_\_\_\_\_ (7)

השלימו את הסדרות:

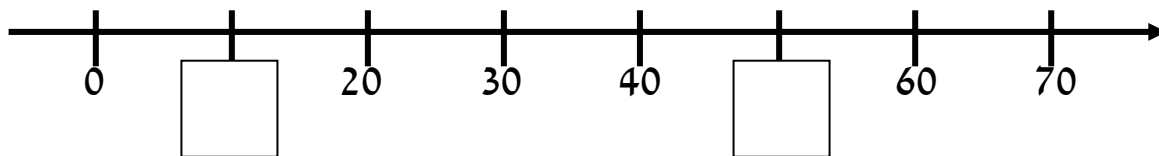
66 , 68 , 70 , \_\_\_\_\_ , \_\_\_\_\_ , \_\_\_\_\_ , 78 , 80 (8)

90 , 80 , 70 , \_\_\_\_\_ , \_\_\_\_\_ , \_\_\_\_\_ (9)

10) כתבו מספר מתאים :

$$32 < \underline{\hspace{2cm}}$$

11) כתבו מספרים מתאימים במשבצות .



12) לאלי יש 10 גולות. לדני יש 6 גולות.

כמה גולות יש לשניהם ביחד?

תרגיל : \_\_\_\_\_

תשובה : \_\_\_\_\_

**כתבו בספרות:**

(13) חמשים \_\_\_\_\_

**כתבו במלים :**

(14) 72 \_\_\_\_\_

(15) ליוסי היו 18 שקלים.

יוסי קנה עט ב-8 שקלים.

כמה שקלים נותרו ליוסי?

תרגיל : \_\_\_\_\_

תשובה : \_\_\_\_\_

השלימו מספרים מתאימים.

10 - \_\_\_\_ = \_\_\_\_

(16) התוצאה היא זוגית

10 - \_\_\_\_ = \_\_\_\_

(17) התוצאה היא אי זוגית

(18) לכל פֶּלֶב יש 4 רגליים .

כמה רגליים יש לשני פֶּלָבִים ?

תרגיל : \_\_\_\_\_

תשובה : \_\_\_\_\_

**השלימו :**

\_\_\_\_\_ + 13 = 16 (19)

10 - \_\_\_\_\_ = 6 (20)

20 + \_\_\_\_\_ = 90 (21)

(22) על השלֶחֶן יש 5 עוגות שוקולד, 3 עוגות גבינה ו- 2 בקבוקי שתיה.

כמה עוגות יש על השלֶחֶן ?

תרגיל : \_\_\_\_\_

תשובה : \_\_\_\_\_

(23) כתבו תרגיל כפל מתאים :

$4 + 4 + 4 = \underline{\quad} \times \underline{\quad}$

**פתרו :**

$$2 \times 3 = \underline{\quad\quad\quad} \quad (24)$$

$$1 \times 6 = \underline{\quad\quad\quad} \quad (25)$$

**פתרו :**

$$14 + 4 - 5 = \underline{\quad\quad\quad} \quad (26)$$

$$18 - 8 + 2 = \underline{\quad\quad\quad} \quad (27)$$

**כתבו סימן מתאים > , < , או =**

$$5 + 5 + 5 \quad \underline{\quad\quad\quad} \quad 5 + 5 \quad (28)$$


$$40 - 12 \quad \underline{\quad\quad\quad} \quad 40 - 5 \quad (29)$$

**(30) הקיפו את הצורה שחצי ממנה צבוע .**

**ג.**



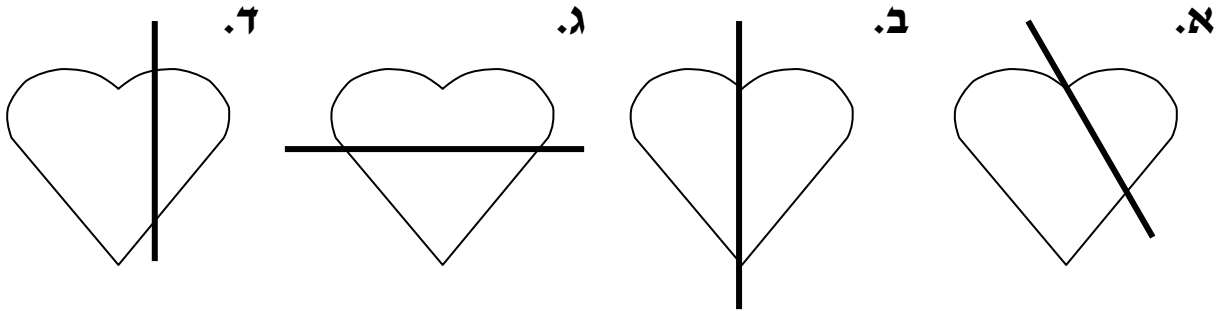
**ב.**



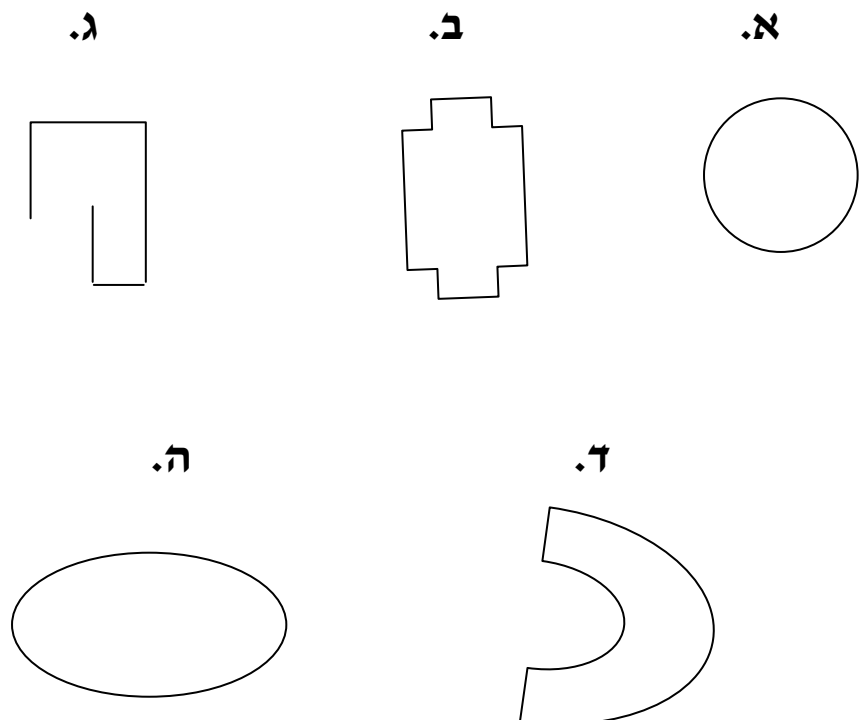
**א.**



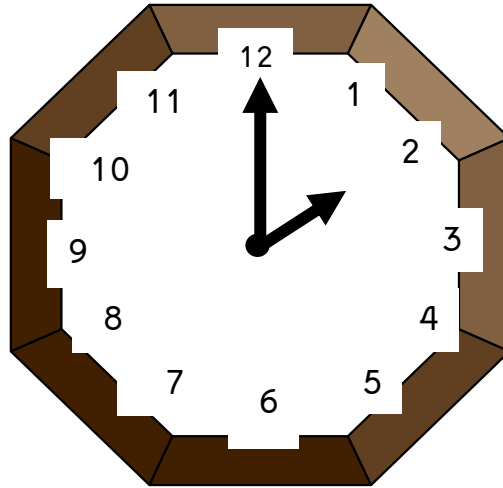
31) הקיפו את הלב שבו הקו המדגש הוא ציר סימטריה.



32) הקיפו את המצולע.

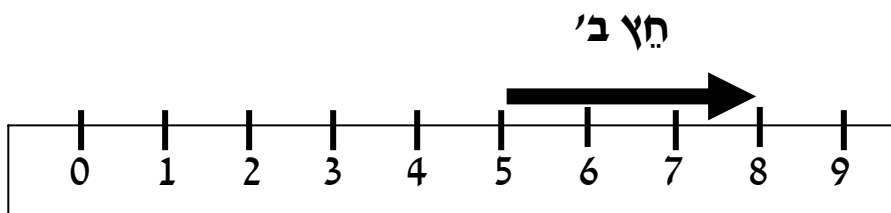
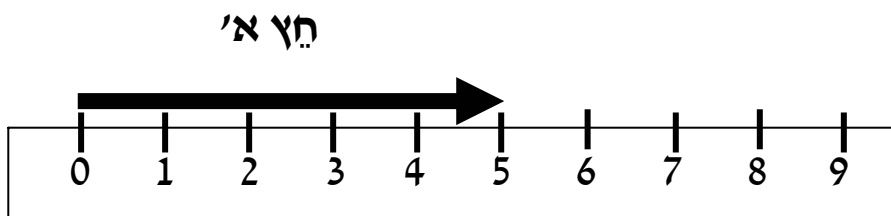


33) כתבו את השעה שפראה השעון .



השעה \_\_\_\_\_

34) איזה חץ ארך יותר ? \_\_\_\_\_

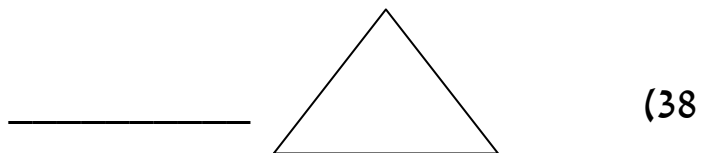
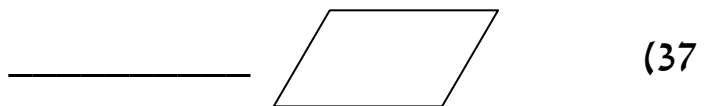
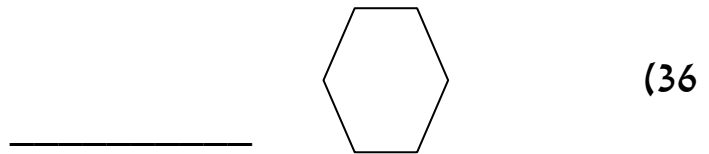


35) הדגישו בצבע את הצלע הארוכה ביותר במוצוֹלֵע



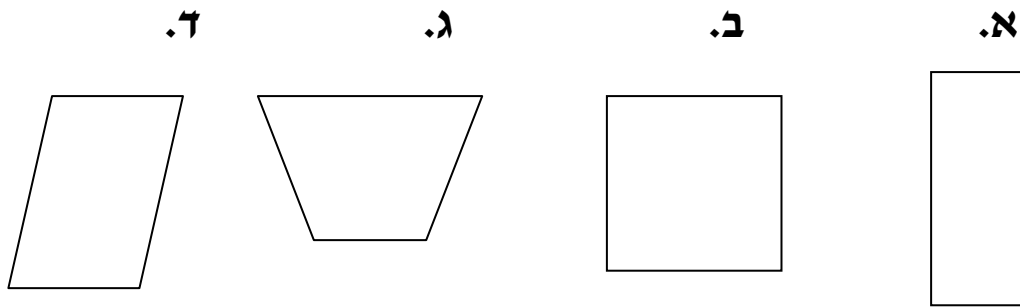
---

כתבו את שם המצוֹלֵע לפי מספר הצלעות.





39) הקיפו את הרבוע



40) רחל מְדָדָה את האוֹרֵךְ של חפצים שונים ביחידות אוֹרֵךְ שֶׁל ס"מ.

מתחוקו קו בין המְדָדָה הַמְתַאיֶמָה לְאוֹרֵךְ החפץ הַנְמְדָד.

אוֹרֵךְ קְלָמֵר

3 ס"מ

אוֹרֵךְ מַחֵק

20 ס"מ