

תוכנית תפנית

מבדק תחילת שנה"ל תשס"ו במתמטיקה

שכבה ב'

שם פרטי : _____ שם משפחה : _____
כיתה : _____ שם ביה"ס : _____ שם הישוב : _____

- מותר שימוש באמצעי המחשה .
- לרשותכם שעתיים .

בהצלחה

פתרו:

$$3 + 7 = \underline{\quad\quad} \quad (1)$$

$$8 + 4 = \underline{\quad\quad} \quad (2)$$

$$9 + 6 = \underline{\quad\quad} \quad (3)$$

$$13 + 3 = \underline{\quad\quad} \quad (4)$$

$$17 - 7 = \underline{\quad\quad} \quad (5)$$

$$11 - 8 = \underline{\quad\quad} \quad (6)$$

$$19 - 8 = \underline{\quad\quad} \quad (7)$$

כתבו מספר מתאים :

12 < _____ (8)

10 < _____ < 20 (9)

6 + 3 < _____ (10)

- (11) בגן השעשועים יש 18 ילדים .
14 מהם משחקים והשאר נחים .
כמה ילדים נחים בגן השעשועים ?

תרגיל : _____

תשובה : _____

כתבו בספרות:

שבע עשרה _____ (12)

כתבו במילים :

91 _____ (13)

- (14) בכל קופסה יש 6 צבעים .
כמה צבעים ב- 2 קופסאות ?

תרגיל : _____

תשובה : _____

- (15) לחנן היו 15 שקלים .
הוא קנה ממתקים ב- 5 שקלים .
כמה כסף נשאר לחנן ?

תרגיל : _____

תשובה : _____

השלימו :

(16) 2 , 4 , 6 , _____ , _____ , _____

(17) 80 , 79 , 78 , _____ , _____ , _____

- (18) בארגז יש 4 בקבוקי קולה ו- 5 בקבוקי מיץ .
כמה בקבוקי שתיה יש בארגז ?

תרגיל : _____

תשובה : _____

פתרו :

(19) $20 + 70 =$ _____

(20) $80 - 20 =$ _____

השלימו מספרים מתאימים .

$10 - \underline{\quad} = \underline{\quad}$

(21) התוצאה קטנה מ- 4

$10 - \underline{\quad} = \underline{\quad}$

(22) התוצאה גדולה מ- 4

$10 - \underline{\quad} = \underline{\quad}$

(23) התוצאה שווה ל- 4

השלימו :

$\underline{\quad} + 12 = 18$ (24)

$16 - \underline{\quad} = 6$ (25)

$\underline{\quad} + 20 = 50$ (26)

(27) בשקית שחילק דני יש 3 סוכריות , 5 מסטיקים ו- 2 בלונים .

כמה ממתקים יש בשקית ?

תרגיל : _____

תשובה : _____

(28) מיינו את המספרים הבאים בטבלה :
7 , 12 , 8 , 9 , 1 , 10 , 0 , 4 , 5

מספרים זוגיים	מספרים אי זוגיים

(29) כתבו תרגיל כפל מתאים :

$$2 + 2 + 2 + 2 = \underline{\quad} \times \underline{\quad}$$

(30) פתרו :

$$1 \times 4 = \underline{\quad}$$

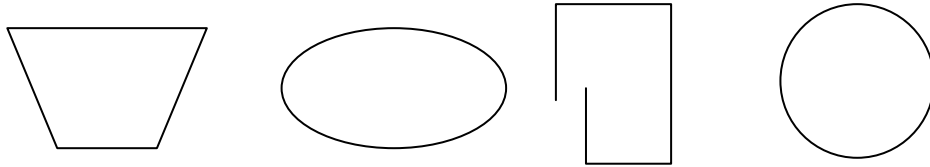
$$2 \times 3 = \underline{\quad}$$

סרטטו :

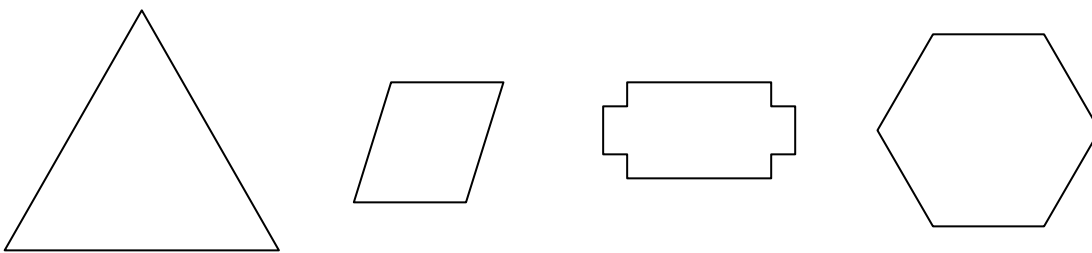
(32) קו עקום סגור

(31) קו שבור פתוח

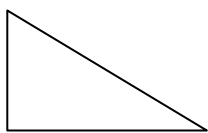
33) הקיפו את המצולע .



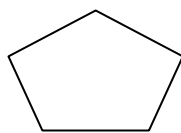
34) הקיפו את המצולע, שמספר צלעותיו הגדול ביותר .



כתבו את שם המצולע על פי מספר הצלעות .




_____ (37)

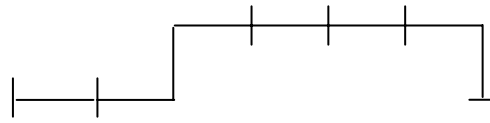



_____ (36)



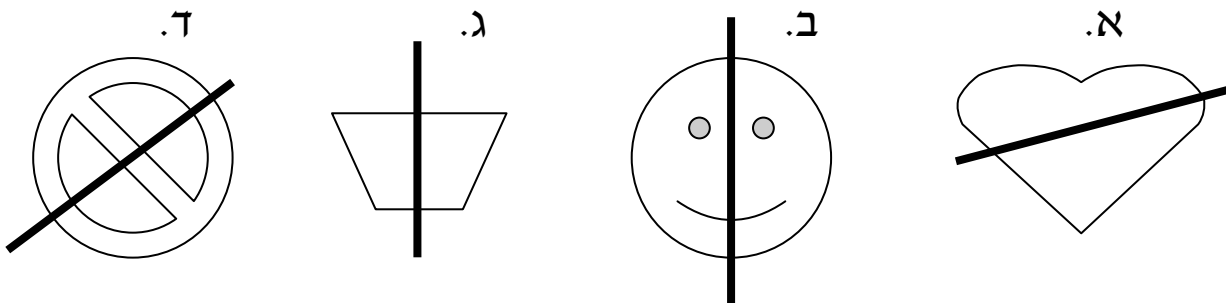
_____ (35)

38) מה אורך הקו שלפניכם, אם יחידת האורך היא  ?



אורך הקו  _____

39) הקיפו את הצורה יוצאת הדופן.



נמקו _____

40) הקיפו את כל המרובעים.

